



Суммативное оценивание по математике за раздел «Решение задач»

Реши задачи


1. Дедушка поймал 30 рыбешек. Окуней 15 штук, лещей-7, а остальные караси. Сколько карасей поймал дедушка? (2 способа) 5б.



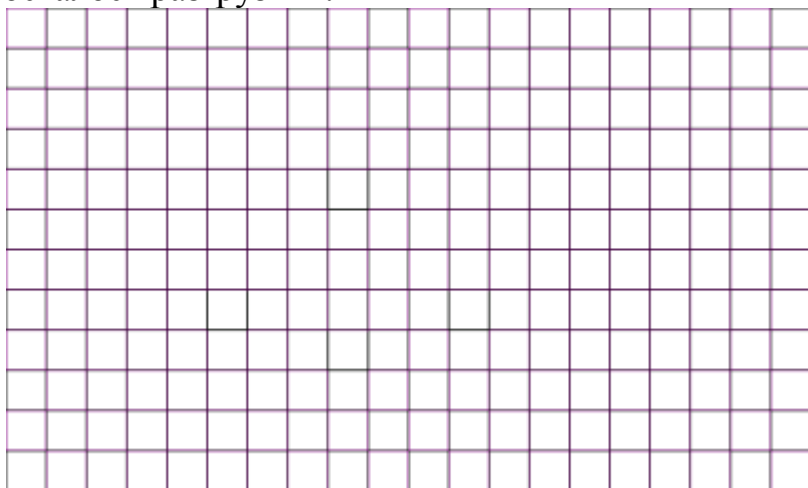
2. С первой грядки собрали 40кг моркови, а со второй грядки 8кг моркови. На сколько килограммов моркови больше собрали с первой грядки, чем со второй? 3б.



3. В библиотеке на первой полке 47 книг, а на второй полке на 9 книг меньше. Сколько всего книг на двух полках? 4б.




4. На станции было 28 вагонов. Разгрузили 6 вагонов. Сколько вагонов
осталось разгрузить? 3б.



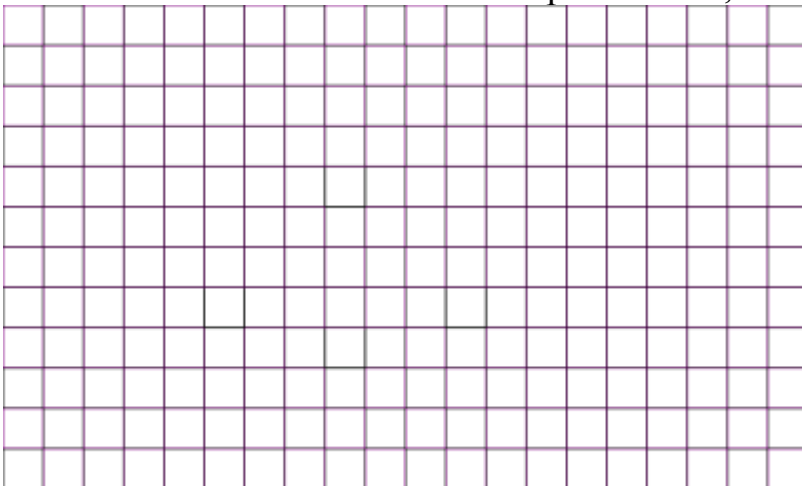
Суммативное оценивание по математике за раздел «Решение задач»

Реши задачи

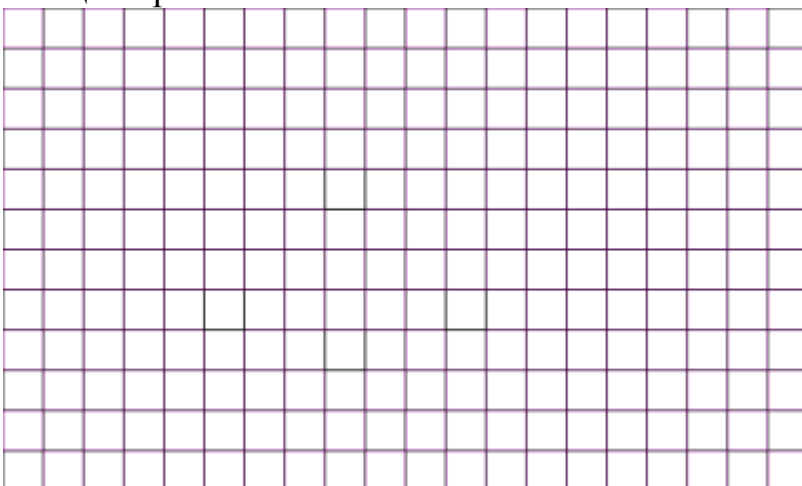
1. Бабушка испекла 40 пирожков. С мясом 16 пирожков, с морковью-9, а остальные с яйцом. Сколько пирожков с яйцом испекла бабушка? (2 способа) 5б.



2. В библиотеке на первой полке стояло 50 книг, а на второй полке 9 книг. На сколько больше книг стояло на первой полке, чем на второй полке? 3б.



3. В магазин привезли 34 кг картофеля, а моркови на 7 кг больше. Сколько всего кг овощей привезли в магазин? 4б.



4. У Саши было 15 черешен. Он дал 8 черешен братику. Сколько черешен Саша оставил себе? 3б.

