

Суммативное оценивание №2 по математике за раздел «Величины и их единицы»
2 четверть
Вариант 1

Ф.И. _____

1. Сравни, переведи 26.

1ч.16мин.....76мин 20ч.....2сут.

2. Найди значения выражений 36.

$1\text{м} - 9\text{дм} =$


$36\text{кг} + 58\text{кг} =$

$1\text{ц} - 62\text{кг} =$

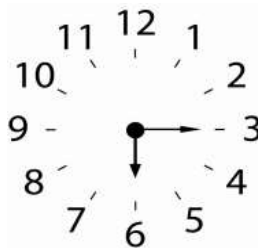
3. Напиши, какое время показывают часы. 36.



УТРО



ВЕЧЕР



ВЕЧЕРчасов.....мин

3. Нарисуй стрелки на циферблате так, чтобы часы показывали
16 часов 30 минут 16.



5.Реши задачу

В магазин привезли 2 ц картофеля. В первый день продали 120кг картофеля, во второй день 30кг картофеля. Сколько кг картофеля продали в третий день? 36.

Суммативное оценивание №2 по математике за раздел «Величины и их единицы»
2 четверть
Вариант 2

Ф.И. _____

1. Сравни, переведи 26.

21ч.....2сут. 1ч.17мин.....77 мин

2. Найди значения выражений 36.

$1\text{ м} - 6\text{ дм} =$

$46\text{ кг} + 27\text{ кг} =$

$1\text{ ц} - 32\text{ кг} =$

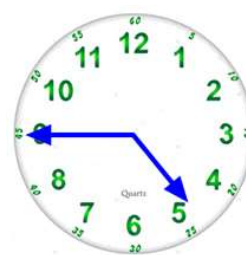
3. Напиши, какое время показывают часы. 36.



ВЕЧЕР



УТРО



УТРОчаса.....мин

4. Нарисуй стрелки на циферблате так, чтобы часы показывали 16.
13 часов 30 минут



5. Реши задачу

В магазин привезли 3 ц моркови. В первый день продали 140 кг моркови, во второй день 30 кг моркови. Сколько кг моркови продали в третий день? 36.
