



1.Реши задачи.

В магазин привезли 3 ящика яблок. В первом ящике 23 кг яблок, во втором ящике на 7кг меньше, чем в первом, а в третьем ящике на 8 кг больше, чем во втором. Сколько кг яблок в третьем ящике?



36.

Одна сторона треугольника равна 21 см, вторая-27 см, а третья-12 см. Найди периметр треугольника.

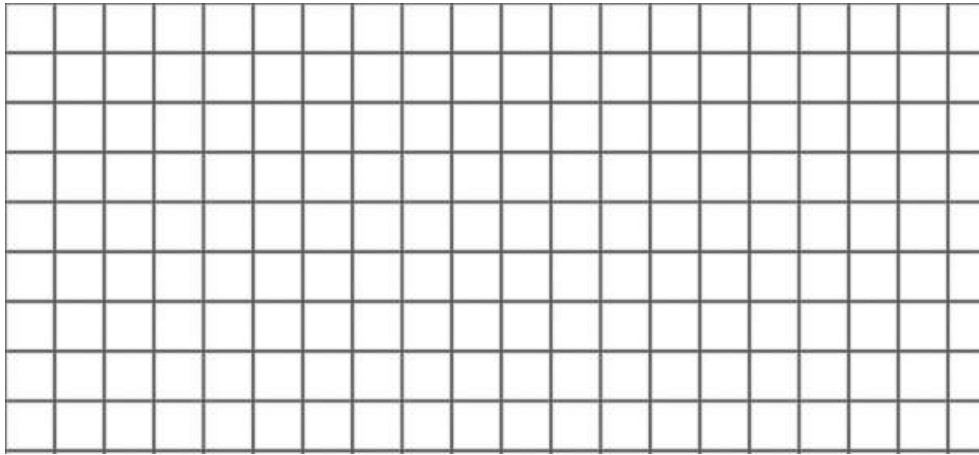


36.

2. Реши уравнения.

$$18 - (x + 5) = 9$$

$$a - (37 + 9) = 37$$



26.


3. Реши в столбик.

$$59 + 24$$

$$82 - 35$$

$$64 + 36$$

$$100 - 81$$



26.

4. Найди значение выражений. Сравни. Запиши промежуточный результат.

$$36\text{кг} + 63\text{кг} \dots 1\text{ц}$$

$$1\text{ч} + 52\text{мин} \dots 2\text{ч}$$

$$1\text{м} - 3\text{дм} \dots 72\text{см}$$

36.

5. Раздели числа на 2 множества.

1

7

205

14

300

9

78



49

402

26

33

500




26.




2. Реши уравнения.

$$25 - (a + 6) = 9 \quad b - (42 - 25) = 23$$



3. Реши в столбик.

$$100 - 72 \quad 82 - 35 \quad 56 + 44 \quad 48 + 27$$



26.



4. Найди значение выражений. Сравни. Запиши промежуточный результат.

$$1\text{м} - 4\text{дм} \dots 63\text{см} \quad 57\text{кг} + 42\text{кг} \dots 1\text{ц} \quad 2\text{ч} \dots 1\text{ч} + 48\text{мин}$$

36.

5. Раздели числа на 2 множества.

49	62	33	402
300	500	78	9
1	7	205	14



26.

Суммативное оценивание по познанию мира за 2 четверть, 2класс. 1 вариант.

ПМ2Б_____

1.Соотнеси.

Группа людей, у которых общие интересы,они могут вместе работать,учиться...	семья	
	одноклассники	
Ученики,которые учатся или учились в одном классе...	коллектив	26.

2.Соедини правильно.

Город	Сырдария	
Озеро	Актобе	
Река	Балхаш	36.

3.Допиши.

Историю, природу и культуру малой родины изучает _____ **16.**

4.Перечисли виды транспорта

_____ **46.**

6. Установи соответствие.

Государственный флаг РК поднимается	на банкнотах и монетах.
Государственный гимн РК исполняется	на зданиях Резиденции Президента РК, Парламента,Сената и Мажилиса.
Изображение государственного герба РК размещается	при поднятии государственного флага 36.

7.Подпиши на карте Казахстана города Нур-Султан , Петропавловск. 26.



Суммативное оценивание по познанию мира за 2 четверть, 2класс. 2 вариант.

ПМ2Б _____

1.Соотнеси.

Группа людей, у которых общие интересы,они могут вместе работать,учиться...

коллектив

одноклассники

Ученики,которые учатся или учились в одном классе...

семья

2б.

2.Соедини правильно.

Город

Есиль

Озеро

Атырау

Река

Жайсан

3б.

3.Допиши.

Историю, природу и культуру малой родины изучает _____ **1б.**

4.Перечисли виды транспорта

4б.

6. Установи соответствие.

Государственный флаг РК
герба РК размещается
поднимается

при поднятии государственного флага

Государственный гимн РК
Президента РК,
исполняется

на зданиях Резиденции

Парламента,Сената и Мажилиса.

Изображение государственного
герба РК размещается

на банкнотах и монетах

3б.

7.Подпиши на карте Казахстана города Нур-Султан , Петропавловск. 2б.

