


Суммативное оценивание 1 по естествознанию
за раздел «Земля и Космос»

Ф.И. _____ 1 вариант

1. Что даёт нам солнце?

16.



2. Сравни космические тела. Поставь знаки $>$, $<$ или $=$.

16.

Земля...Луна

Луна...Солнце

Земля...Солнце

3. Допиши определения и высказывания.

46.

Орбита _____

Солнечная система- _____

Год –это время, за которое _____ делает оборот вокруг _____.

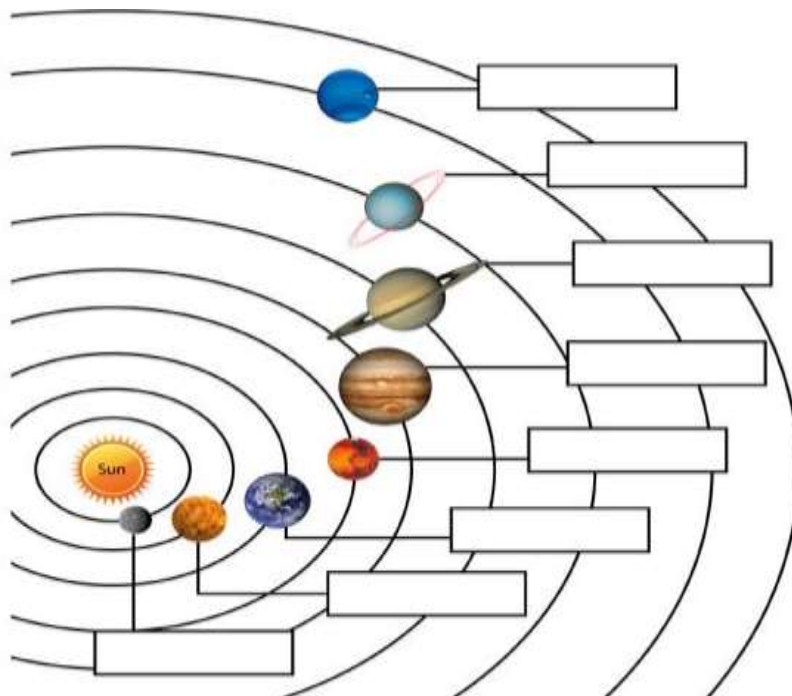
Сутки – это время, за которое _____ делает оборот вокруг _____.

Раньше измерять время людям помогали наблюдения за _____, _____
и _____.

Зимние месяцы- это _____, _____, _____.

4. Подпиши планеты Солнечной системы.

26.



5. Поставь знак «+», если ты согласен с высказываниями.

26.

В Солнечной системе есть четыре планеты-гиганта: Юпитер, Сатурн, Уран, Меркурий.

Луна- естественный спутник Земли.

Год, в котором 365 дней называется високосным.

Февраль – самый короткий месяц в году.

6. Рассмотри календарь на 2020 год. На какой день недели выпадает первый день лета?

	ЯНВАРЬ	ФЕВРАЛЬ	МАРТ	АПРЕЛЬ	МАЙ	ИЮНЬ	
Пн	6 13 20 27	3 10 17 24	2 9 16 23 30	6 13 20 27	4 11 18 25	1 8 15 22 29	Пн
Вт	7 14 21 28	4 11 18 25	3 10 17 24 31	7 14 21 28	5 12 19 26	2 9 16 23 30	Вт
Ср	1 8 15 22 29	5 12 19 26	4 11 18 25	1 8 15 22 29	6 13 20 27	3 10 17 24	Ср
Чт	2 9 16 23 30	6 13 20 27	5 12 19 26	2 9 16 23 30	7 14 21 28	4 11 18 25	Чт
Пт	3 10 17 24 31	7 14 21 28	6 13 20 27	3 10 17 24	1 8 15 22 29	5 12 19 26	Пт
Сб	4 11 18 25	1 8 15 22 29	7 14 21 28	4 11 18 25	2 9 16 23 30	6 13 20 27	Сб
Вс	5 12 19 26	2 9 16 23	18 15 22 29	5 12 19 26	3 10 17 24 31	7 14 21 28	Вс

	ИЮЛЬ	АВГУСТ	СЕНТЯБРЬ	ОКТАБРЬ	НОЯБРЬ	ДЕКАБРЬ	
Пн	6 13 20 27	3 10 17 24 31	7 14 21 28	5 12 19 26	2 9 16 23 30	7 14 21 28	Пн
Вт	7 14 21 28	4 11 18 25	1 8 15 22 29	6 13 20 27	3 10 17 24	1 8 15 22 29	Вт
Ср	1 8 15 22 29	5 12 19 26	2 9 16 23 30	7 14 21 28	4 11 18 25	2 9 16 23 30	Ср
Чт	2 9 16 23 30	6 13 20 27	3 10 17 24	1 8 15 22 29	5 12 19 26	3 10 17 24 31	Чт
Пт	3 10 17 24 31	7 14 21 28	4 11 18 25	2 9 16 23 30	6 13 20 27	4 11 18 25	Пт
Сб	4 11 18 25	1 8 15 22 29	5 12 19 26	3 10 17 24 31	7 14 21 28	5 12 19 26	Сб
Вс	5 12 19 26	2 9 16 23 30	6 13 20 27	4 11 18 25	1 8 15 22 29	6 13 20 27	Вс

16.

6. Подпиши названия часов.

36.



Суммативное оценивание 1 по естествознанию

за раздел «Земля и Космос»

Ф.И. _____ 2 вариант

1. Сравни космические тела. Поставь знаки $>$, $<$ или $=$. 16.

Земля...Солнце

Луна....Земля

Солнце...Луна

2. Что даёт нам солнце? 16.



3. Допиши определения. 46.

Календарь- _____

Орбита- _____

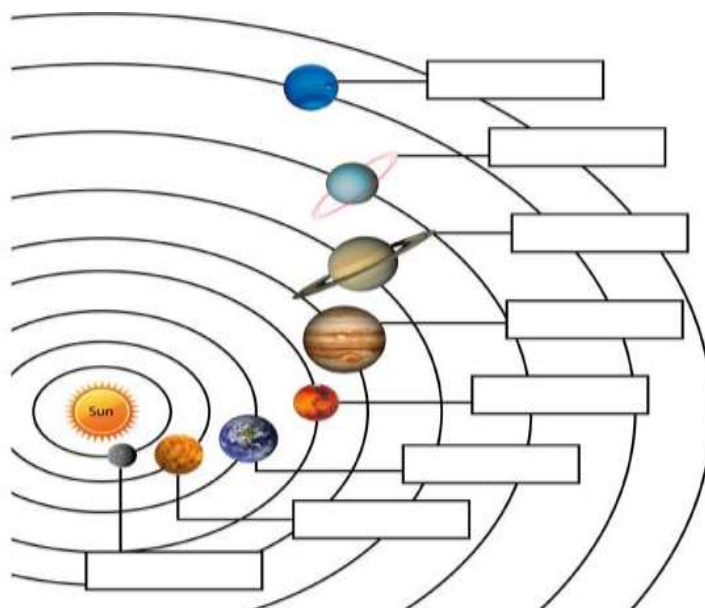
Год –это время, за которое _____ делает оборот вокруг _____.

Раньше измерять время людям помогали наблюдения за _____, _____ и _____.

Летние месяцы- это _____, _____, _____.

Сутки – это время, за которое _____ делает оборот вокруг _____.

4. Подпиши планеты Солнечной системы. 26.



5. Поставь знак «+», если ты согласен с высказываниями. 26.

Юпитер- самая большая планета Солнечной системы. Её называют газовым гигантом.

Из всех планет Солнечной системы меньше всего света и тепла получает Марс.

В високосном году 366 дней

Самый длинный месяц-февраль.

6. Рассмотри календарь на 2020 год. На какой день недели выпадает последний день весны?

ЯНВАРЬ		ФЕВРАЛЬ		МАРТ		АПРЕЛЬ		МАЙ		ИЮНЬ	
Пн	6 13 20 27	3 10 17 24	2 9 16 23 30	6 13 20 27	4 11 18 25	1 8 15 22 29	Пн	4 11 18 25	1 8 15 22 29	Пн	1 8 15 22 29
Вт	7 14 21 28	4 11 18 25	3 10 17 24 31	7 14 21 28	5 12 19 26	2 9 16 23 30	Вт	5 12 19 26	2 9 16 23 30	Вт	2 9 16 23 30
Ср	1 8 15 22 29	5 12 19 26	4 11 18 25	1 8 15 22 29	6 13 20 27	3 10 17 24	Ср	6 13 20 27	3 10 17 24	Ср	3 10 17 24
Чт	2 9 16 23 30	6 13 20 27	5 12 19 26	2 9 16 23 30	7 14 21 28	4 11 18 25	Чт	7 14 21 28	4 11 18 25	Чт	4 11 18 25
Пт	3 10 17 24 31	7 14 21 28	6 13 20 27	3 10 17 24	1 8 15 22 29	5 12 19 26	Пт	1 8 15 22 29	5 12 19 26	Пт	5 12 19 26
Сб	4 11 18 25	1 8 15 22 29	7 14 21 28	4 11 18 25	2 9 16 23 30	6 13 20 27	Сб	2 9 16 23 30	6 13 20 27	Сб	6 13 20 27
Вс	5 12 19 26	2 9 16 23	18 15 22 29	5 12 19 26	3 10 17 24 31	7 14 21 28	Вс	3 10 17 24 31	7 14 21 28	Вс	7 14 21 28

ИЮЛЬ		АВГУСТ		СЕНТЯБРЬ		ОКТАБРЬ		НОЯБРЬ		ДЕКАБРЬ	
Пн	6 13 20 27	3 10 17 24 31	7 14 21 28	5 12 19 26	2 9 16 23 30	7 14 21 28	Пн	4 11 18 25	1 8 15 22 29	Пн	1 8 15 22 29
Вт	7 14 21 28	4 11 18 25	1 8 15 22 29	6 13 20 27	3 10 17 24	1 8 15 22 29	Вт	5 12 19 26	2 9 16 23 30	Вт	2 9 16 23 30
Ср	1 8 15 22 29	5 12 19 26	2 9 16 23 30	7 14 21 28	4 11 18 25	2 9 16 23 30	Ср	6 13 20 27	3 10 17 24 31	Ср	3 10 17 24 31
Чт	2 9 16 23 30	6 13 20 27	3 10 17 24	1 8 15 22 29	5 12 19 26	6 13 20 27	Чт	7 14 21 28	4 11 18 25	Чт	4 11 18 25
Пт	3 10 17 24 31	7 14 21 28	4 11 18 25	2 9 16 23 30	6 13 20 27	4 11 18 25	Пт	5 12 19 26	2 9 16 23 30	Пт	5 12 19 26
Сб	4 11 18 25	1 8 15 22 29	5 12 19 26	3 10 17 24 31	7 14 21 28	5 12 19 26	Сб	6 13 20 27	3 10 17 24 31	Сб	6 13 20 27
Вс	5 12 19 26	2 9 16 23 30	6 13 20 27	4 11 18 25	1 8 15 22 29	6 13 20 27	Вс	7 14 21 28	4 11 18 25	Вс	7 14 21 28

16.

6. Подпиши названия часов.

36.